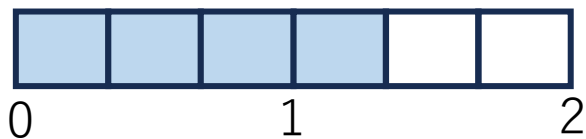


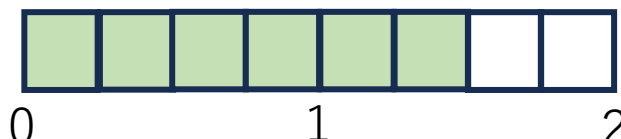
名前

仮分数と帯分数で表しましょう。




仮分数

帯分数



仮分数

帯分数



仮分数

帯分数

仮分数を帯分数にしましょう。

$$\frac{4}{3} = \text{---} \quad \frac{7}{2} = \text{---} \quad \frac{6}{5} = \text{---} \quad \frac{11}{3} = \text{---}$$



帯分数を仮分数にしましょう。

$$4\frac{2}{3} = \text{---} \quad 1\frac{4}{5} = \text{---} \quad 2\frac{1}{2} = \text{---} \quad 1\frac{1}{4} = \text{---} \quad 2\frac{2}{5} = \text{---}$$

一番元気な時が  $\frac{10}{10}$  だとしたら、今の元気はいくつですか。