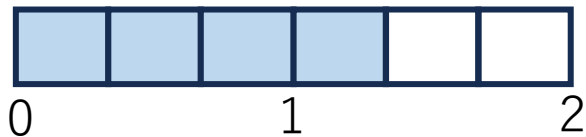


名前

仮分数と帯分数で表しましょう。

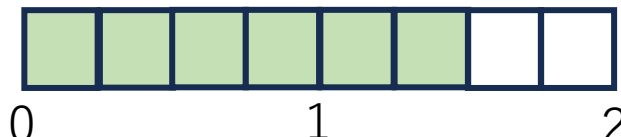


仮分数

$$\frac{4}{3}$$

帯分数

$$1\frac{1}{3}$$

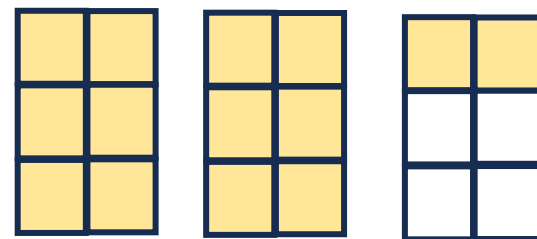


仮分数

$$\frac{6}{4}$$

帯分数

$$1\frac{2}{4}$$



仮分数

$$\frac{14}{6}$$

帯分数

$$2\frac{2}{6}$$

仮分数を帯分数にしましょう。

$$\frac{4}{3} = 1\frac{1}{3}$$

$$\frac{7}{2} = 3\frac{1}{2}$$

$$\frac{6}{5} = 1\frac{1}{5}$$

$$\frac{11}{3} = 3\frac{2}{3}$$



帯分数を仮分数にしましょう。

$$4\frac{2}{3} = \frac{14}{3}$$

$$1\frac{4}{5} = \frac{9}{5}$$

$$2\frac{1}{2} = \frac{5}{2}$$

$$1\frac{1}{4} = \frac{5}{4}$$

$$2\frac{2}{5} = \frac{12}{5}$$

一番元気な時が $\frac{10}{10}$ だとしたら、今の元気はいくつですか。

$$\frac{10}{10}$$